

**WTOREK: 13.04.2021 r.**

## **TEMAT DNIA: Gwiazdozbiory**

Dzisiaj do zajęcia potrzebne nam będą liczmany , liczmanami mogą być klamerki , kulki z papieru, klocki itp.

### **PRZYGOTOWANI ? ZACZYNAMY !!!**

#### **1. Posłuchaj opowiadania pt „ Błyskotka”**

Gdzieś bardzo daleko, bardzo wysoko, za nie jedną planetą, tam gdzie mieszkają gwiazdy, na świat przyszła gwiazda, której nadano imię Błyskotka. Mimo że była jeszcze mała, świeciła niezwykle jasno. Każdego wieczoru chętni mogli podziwiać jej olśniewający blask. Jednak nie wszystkie gwiazdy ją podziwiały. Znalazło się 7 gwiazd, które zazdrościły jej blasku. 7 zazdrosnych gwiazd postanowiło wykraść blask Błyskotki. Uknęły plan rabunku. W dzień, czyli w czasie, gdy gwiazdy śpią, złe gwiazdy zakradły się do Błyskotki. Zabrały jej blask, rozdzieliły między siebie i uciekły. Gdy przyszedł wieczór, mała gwiazdka obudziła się. Wokół niej było ciemno. Miał ochotę rozświetlić okolicę, wtedy właśnie zauważyła, że jej blask zniknął. Błyskotka nie wiedziała, że została okradziona. Była przekonana, że to ona sama przez nieuwagę zgubiła swój blask. Postanowiła, że go odszuka. Chodziła po niebie i odwiedzała inne gwiazdy. Za każdym razem pytała je, czy nie widziały jej blasku. Dotarła też do złych 7 gwiazd, której ukradły jej blask, jednak te zaprzeczyły, twierdząc, że nic nie wiedzą o jej blasku. Złe gwiazdy nie były jednak zadowolone ze swojego rabunku. Nie wiązało się to z tym, że żałowały tego co zrobiły. Były niezadowolone z blasku, jaki ukradły Błyskotce. Rozdzielając go między siebie, każda otrzymała tylko część blasku. Żadna nie świeciła tak jasno, jak kiedyś Błyskotka.

#### **2. Rozmowa na temat opowiadania:**

- o czym było opowiadanie?
- ile było złych gwiazd?
- narysuj 7 złych gwiazd – podpisz za pomocą cyfr lub ułóż odpowiednią liczbę klocków
- narysuj Błyskotkę – podpisz za pomocą cyfr lub ułóż odpowiednią liczbę klocków


Przyjrzyj się gwiazdom i spróbuj ułożyć działanie. Zapisz działanie za pomocą cyfr



1 i 7

$$1 + 7 = 8$$

3. Przyjrzyj się jak wygląda cyfra 8 drukowana i pisana.



4. Zwróć uwagę na kierunek pisania .

Spróbuj napisać cyfrę 8:

- w powietrzu,
- na podłodze
- na plecach rodziców
- ułóż cyfrę 8 ze sznurówki lub kawałka włóczki

4. Zastanów się czy w twoim domu lub otoczeniu są rzeczy która mają kształt podobny do cyfra 8.



© Can Stock Photo



5. przyjrzyj się uważnie i odszukaj 8 takim samym gwiazd.



6. Zabawa ruchowa:


- zaklaskcz 8 x,
- podskocz 8x ,
- zrób 8 przysiadów,
- zrób 8 dużych kroków ,
- stań na prawej nodze i policz do 8.

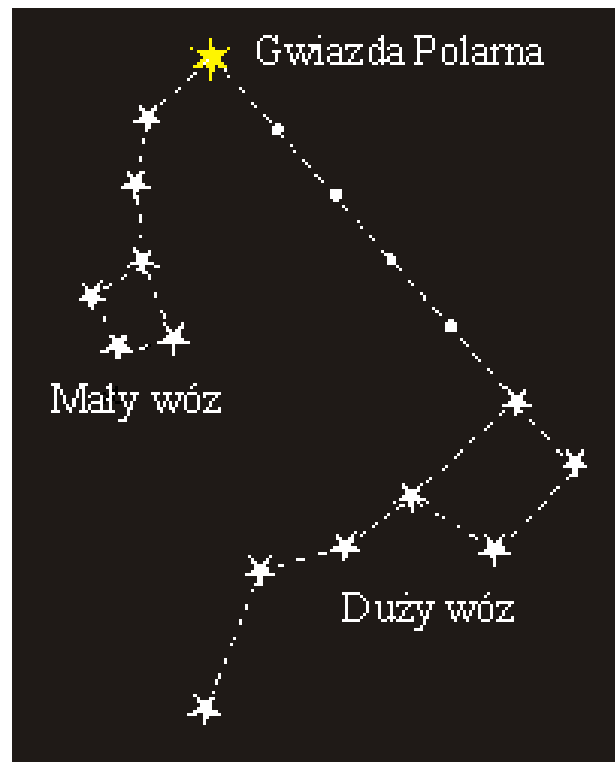
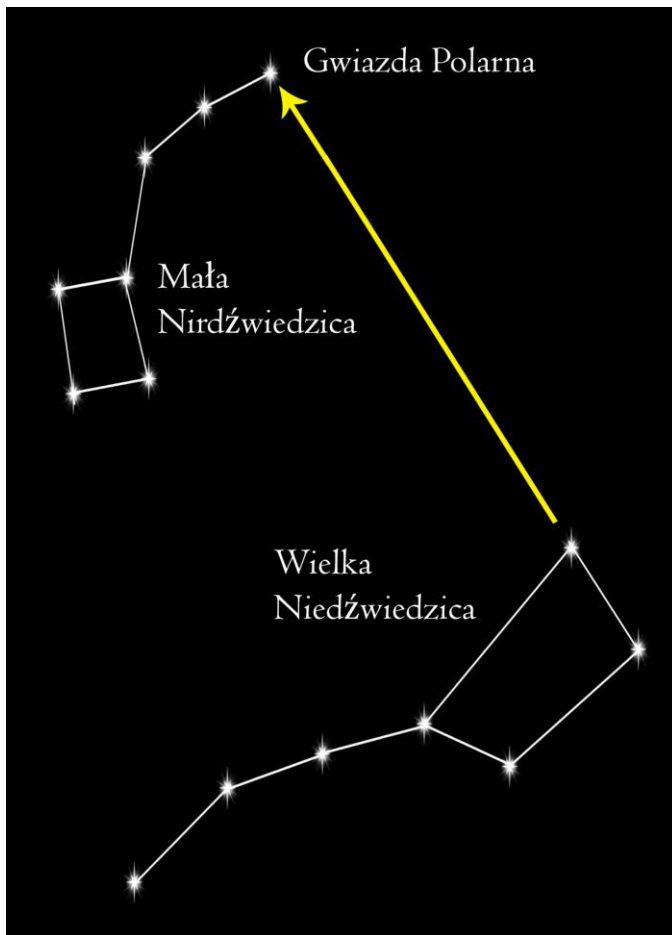
7. Kochani wcześniej czytaliście opowiadanie o Błyskotce i jej koleżankach złych gwiazdkach. Zastanówcie się nad tym czy wiecie co to są gwiazdozbiory?

**Gwiazdozbiór** : (konstelacja) obszar na niebie. Gwiazdy wchodzące w skład gwiazdozbiorów nie są ze sobą zazwyczaj fizycznie związane, są w bliskim położeniu.

**8. Przyjrzyj się obrazkom i zastanów się czy już wcześniej widziałeś taki układ gwiazd.**

**Droga Mleczna**





### 9. Zapraszam do zabawy gwiazdozbiory zwierząt.

<https://www.youtube.com/watch?v=EY3ZZh-OWAI&t=54s>

### 10. Zabawa ruchowa w formie naśladowczej „Gwiazdy”

Gdy patrzy się na niebo w nocy, można zobaczyć wiele gwiazd. Przypominają one niewielkie światełka, które delikatnie drgają.

\* Pomyślcie, że leżycie na trawie! (leżymy „na plecach”),

\* Spójrzcie w górę! (patrzymy w sufit),

\* Wyciągnijcie przed siebie dłonie!, Wyobraźcie sobie, że są one gwiazdami. Poruszajcie palcami! (delikatnie poruszamy palcami, naśladujemy migotanie gwiazd)

Czy nie stały się one podobne do gwiazd? Czy nie wydaje się, że one migocą?

### 12. Wytnij 8 gwiazdek i spróbuj ułożyć z nich swój gwiazdozbiór. Powodzenia.

### 13. Zapraszam na gimnastykę. „Ruch to zdrowie”.

<https://www.youtube.com/watch?v=n7OIPFcyZRU>

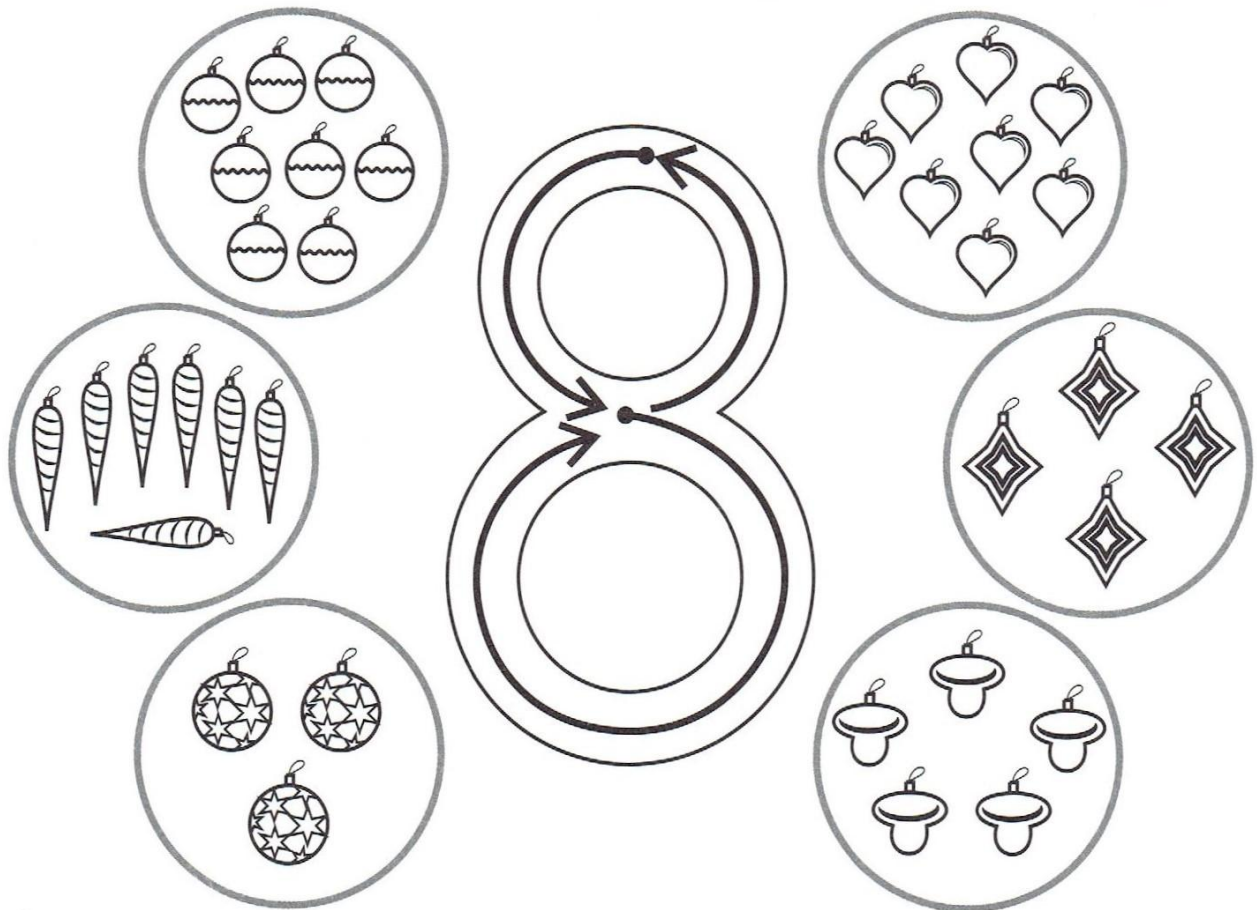
### 12. Wykonaj karty pracy:

KP. 4 s. 68 – 70. ( nowe wydanie kart pracy )


KP. 4 s. 54 – 55. ( stare wydanie kart pracy )

Dla chętny dzieci


Połącz cyfrę 8 z pętlami, w których jest osiem bombek.




Pokoloruj ósmą bombkę, licząc od lewej strony.



Pokoloruj ósmą bombkę, licząc od prawej strony.






● Narysuj w torebkach tyle cukierków, ile wskazują umieszczone w okienkach liczby.



8



6



7

● Otocz pętlami **po osiem** cukierków. Ile pętli otrzymałeś?

